

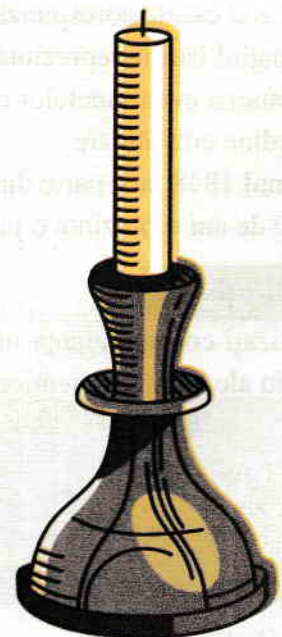
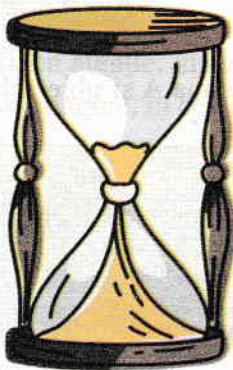
ISTORIE

Fișe de evaluare pentru clasa a V-a

- Structurate pe unități de învățare în conformitate cu Programă școlară în vigoare
- Alcătuite pe baza informațiilor comune din cele opt manuale școlare alternative
- Fișe de evaluare pentru recapitularea finală
- Sugestii de rezolvare

Argument	4
Unitatea 1. Alfabetul istoriei. Reconstituirea trecutului	
Fișa de evaluare nr. 1	6
Fișa de evaluare nr. 2	9
Unitatea 2. Preistoria	
Fișa de evaluare nr. 1	13
Fișa de evaluare nr. 2	16
Unitatea 3. Orientul Antic	
Fișa de evaluare nr. 1	20
Fișa de evaluare nr. 2	23
Unitatea 4. Civilizația greacă și sinteza elenistică	
Fișa de evaluare nr. 1	27
Fișa de evaluare nr. 2	30
Unitatea 5. Lumea romană	
Fișa de evaluare nr. 1	34
Fișa de evaluare nr. 2	38
Unitatea 6. Geto - dacii	
Fișa de evaluare nr. 1	42
Fișa de evaluare nr. 2	45
Unitatea 7. Civilizația islamică	
Fișa de evaluare nr. 1	49
Fișa de evaluare nr. 2	52
Unitatea 8. Europa medievală	
Fișa de evaluare nr. 1	56
Fișa de evaluare nr. 2	59
Recapitulare finală	
Fișa de evaluare nr. 1	63
Fișa de evaluare nr. 2	67
Bareme de evaluare și de notare. Sugestii de rezolvare	
Unitatea 1. Alfabetul istoriei. Reconstituirea trecutului	
Fișa de evaluare nr. 1	72
Fișa de evaluare nr. 2	74
Unitatea 2. Preistoria	
Fișa de evaluare nr. 1	76
Fișa de evaluare nr. 2	78
Unitatea 3. Orientul Antic	
Fișa de evaluare nr. 1	80
Fișa de evaluare nr. 2	82
Unitatea 4. Civilizația greacă și sinteza elenistică	
Fișa de evaluare nr. 1	84
Fișa de evaluare nr. 2	86
Unitatea 5. Lumea romană	
Fișa de evaluare nr. 1	88
Fișa de evaluare nr. 2	90
Unitatea 6. Geto - dacii	
Fișa de evaluare nr. 1	92
Fișa de evaluare nr. 2	94
Unitatea 7. Civilizația islamică	
Fișa de evaluare nr. 1	96
Fișa de evaluare nr. 2	97
Unitatea 8. Europa medievală	
Fișa de evaluare nr. 1	99
Fișa de evaluare nr. 2	101
Recapitulare finală	
Fișa de evaluare nr. 1	102
Fișa de evaluare nr. 2	103
Bibliografie	104

Alfabetul istoriei. Reconstituirea trecutului



Aplicația I

Marcați în casetă, litera corespunzătoare răspunsului corect pentru fiecare dintre afirmațiile de mai jos.

1. Prima epocă istorică în evoluția omenirii a fost:

- a. Evul Mediu;
 b. Preistoria;
 c. Antichitatea.

2. Opt secole reprezintă o perioadă de:

- a. 80 de ani;
 b. 8000 de ani;
 c. 800 de ani.

3. Mileniul reprezintă o unitate de timp istoric care cuprinde:

- a. 1000 de ani;
 b. 100 de ani;
 c. 500 de ani.

4. Intervalul de timp corespunzător secolului al XIV-lea este:

- a. 1201-1300;
 b. 1301-1400;
 c. 1401-1500.

Aplicația II

Analizați afirmațiile de mai jos, apoi stabiliți dacă sunt adevărate (A) sau false (F), marcând caseta corespunzătoare răspunsului corect.

1. Spațiul istoric reprezintă locul unde s-au desfășurat evenimentele istorice.

A F

2. Datarea evenimentelor care au avut loc în *era înainte de Hristos* (î. Hr.) se realizează în ordine crescătoare.

3. Anul 1848 face parte din secolul al XIX - lea, mileniul al II-lea.

4. 50 de ani reprezintă o jumătate de secol.

Aplicația III

Realizați corespondența între științele auxiliare istoriei menționate în coloana A și obiectele de studiu ale acestora menționate în coloana B.

A

1. Cronologia

2. Arheologia

3. Numismatica

4. Cartografia

B

a. Se ocupă cu studierea monedelor și a bancnotelor

b. Se ocupă cu studiul hărților istorice

c. Se ocupă cu datarea evenimentelor istorice

d. Se ocupă cu descoperirea și cercetarea obiectelor găsite în pământ

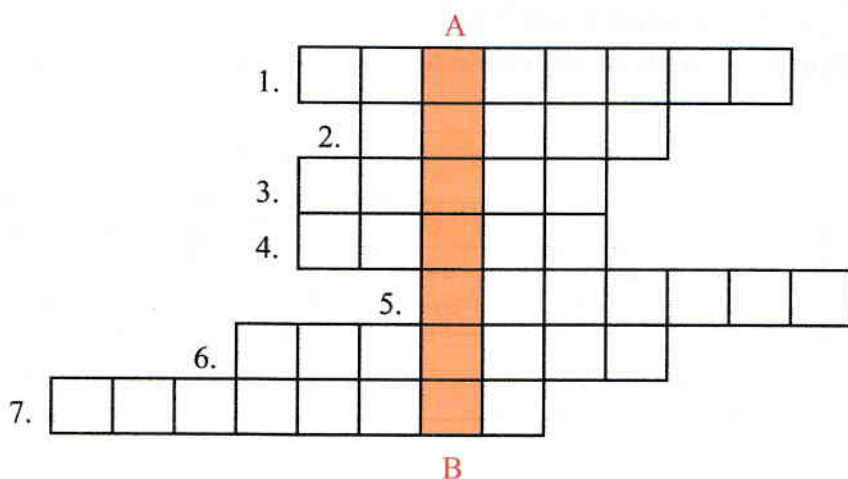
Aplicația IV

Completați spațiile libere din afirmațiile de mai jos, cu informațiile corespunzătoare.

1. Anul 476 d.Hr. se află în deceniul, secolul, mileniul
2. Anul 1939 d.Hr. se află în deceniul, secolul, mileniul
3. Un an corespunzător deceniului 5, secolul al X - lea, mileniul I, este
4. Un an corespunzător deceniului 7, secolul al XVIII - lea, mileniul al II-lea, este

Aplicația V

Completați rebusul de mai jos, pe baza definițiilor oferite. Veți putea descoperi pe coloana A – B numele istoricului grec considerat „părintele istoriei”.



Orizontal

1. Analizează izvoarele istorice descoperite, de regulă, în urma săpăturilor.
2. Unitate de timp istoric alcătuită din 100 ani.
3. Reprezentare grafică a spațiului istoric.
4. Perioadă istorică cu anumite caracteristici.
5. Unitate de timp istoric alcătuită din 10 ani.
6. Dovezi ale trecutului.
7. Bani de hârtie.

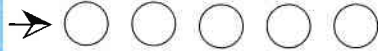
Aplicația VI

Priviți, cu atenție, imaginile de mai jos, în care sunt prezentate izvoare istorice. Precizați, pentru fiecare imagine, în ce categorie de izvoare istorice se încadrează.





IZVOARE SCRISE



IZVOARE NESCRISE



Felicitări! Ai reușit să parcurgi întreaga fișă de evaluare.

Acum urmărește în caseta de evaluare/autoevaluare, punctajul aferent fiecărei aplicații.

Caseta de evaluare/autoevaluare

Aplicația	I	II	III	IV	V	VI	Oficiu	Total
Punctaj acordat	20 p (5p × 4)	12 p (3p × 4)	20 p (5p × 4)	14 p (3p+3p+4p+4p)	14 p (2p×7)	10 p (1p×10)	10 p	100 p
Punctaj obținut								

Fișa de evaluare nr. 2

Aplicația I

Marcați în casetă litera corespunzătoare răspunsului corect pentru fiecare dintre afirmațiile de mai jos.

1. Din categoria izvoarelor istorice nescrise fac parte:

- a. monedele și bancnotele;
- b. uneltele și armele;
- c. ziarele și documentele.

2. Anul care reprezintă mijlocul secolului al XVI - lea este:

- a. 1550
- b. 1505
- c. 1595

3. Trei decenii reprezintă o perioadă de:

- a. 3 ani;
- b. 300 de ani;
- c. 30 de ani.

4. Epoca istorică anterioară Antichității este:

- a. Epoca modernă;
- b. Evul Mediu;
- c. Preistoria.

Aplicația II

Analizați afirmațiile de mai jos, apoi stabiliți dacă sunt adevărate (A) sau false (F), marcând caseta corespunzătoare răspunsului corect.

- 1. Trecutul istoric se reconstituie pe baza izvoarelor istorice. **A** **F**
- 2. Datarea evenimentelor istorice care au avut loc în *era după Hristos* (d.Hr.) se realizează în ordine crescătoare.
- 3. Toate epocile istorice au aceeași durată de timp.
- 4. Toate popoarele lumii își socotesc numerotarea anilor de la anul 1, momentul nașterii lui Iisus Hristos.

Aplicația III

Realizați corespondența dintre epocile istorice menționate în coloana A și faptele istorice în care acestea se încadrează, menționate în coloana B.

A

1. Epoca antică

2. Epoca medievală

3. Epoca modernă

4. Epoca contemporană

B

a. Unirea Moldovei cu Țara Românească (1859)

b. Cucerirea Daciei de către romani (106)

c. Se desfășoară al Doilea Război Mondial (1939-1945)

d. Mihai Viteazul îi înfrânge pe otomani la Călugăreni (1595)

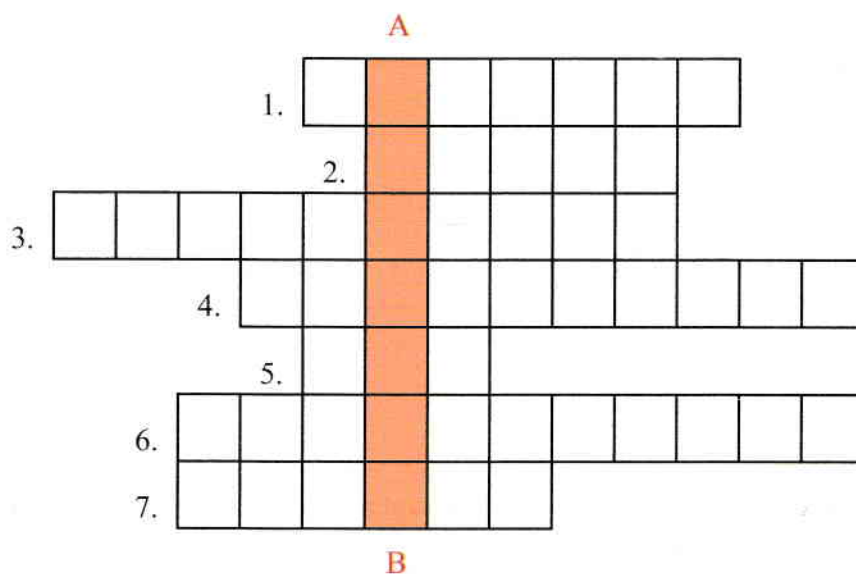
Aplicația IV

Completați spațiile libere din afirmațiile de mai jos, cu informațiile corespunzătoare.

1. Anul 753 î.Hr. se află în deceniul, secolul, mileniul
2. Anul 1382 î.Hr. se află în deceniul, secolul, mileniul
3. Un an corespunzător deceniului 3, secolul al IX - lea, mileniul I, este
4. Un an corespunzător deceniului 5, secolul al XIII – lea, mileniul al II - lea, este

Aplicația V

Completați rebusul de mai jos, pe baza definițiilor oferite. Veți putea descoperi pe coloana A – B numele științei care se ocupă cu studierea trecutului omenirii din cele mai vechi timpuri și până în prezent.



Orizontal

1. Unitate de timp istoric alcătuită din 1000 de ani.
2. Unitate de timp istoric alcătuită din 100 de ani.
3. Prima epocă istorică.
4. Se ocupă cu datarea evenimentelor istorice.
5. Perioadă istorică ce începe cu data unui anumit eveniment istoric de la care pornește numărătoarea anilor.
6. Epocă istorică anterioară Evului Mediu.
7. Bani din metal.

Aplicația VI

Priviți, cu atenție, imaginile de mai jos, în care sunt prezentate fața, respectiv spatele unei bancnote emise în anul 1966. Pornind de la aceste imagini, răspundeți următoarelor cerințe.



1. Menționați din ce categorie de izvoare istorice face parte bancnota.

.....

2. Precizați secolul în care a fost emisă bancnota.

.....

3. Numiți spațiul istoric în care a circulat bancnota.

.....

4. Precizați valoarea bancnotei.

.....

5. Menționați un alt element pe care îl puteți identifica analizând bancnota.

.....



Felicitări! Ai reușit să parcurgi întreaga fișă de evaluare.

Acum urmărește în caseta de evaluare/autoevaluare, punctajul aferent fiecărei aplicații.

Caseta de evaluare/autoevaluare

Aplicația	I	II	III	IV	V	VI	Oficiu	Total
Punctaj acordat	20 p (5p × 4)	12 p (3p × 4)	20 p (5p × 4)	14 p (3p+3p+4p+4p)	14 p (2p×7)	10 p (2p+2p+2p+1p+3p)	10 p	100 p
Punctaj obținut								